

Годовая контрольная работа по математике 1 класс

1. Выбери правильный ответ и отметь (+) в пустом квадрате

7,8,.....,12,13

1) 14,15,16 2) 11,10,9 3) 9,10,11

2. Поставь знаки больше, меньше, равно.

1) $5+2 \dots 2+5$ 2) $8+1 \dots 8-1$ 3) $7-2 \dots 7+2$

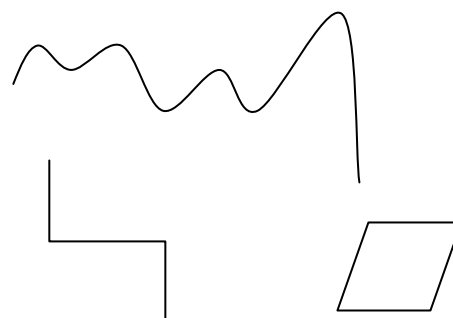
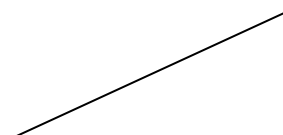

3. Соедини название и фигуру

Прямая

Луч

Отрезок

Многоугольник



4. Какое число при счёте следует за числом 14 ?

15 16 13

5. Сколько десятков в числе 17 ?

7 17 1

6. Укажи разность чисел 14 и 4

10 18 14

7. Укажи все примеры, ответы которых равны 7

$1+6$ $10-3$ $2+5$ $4+4$

8. Сравни, на сколько 5 больше чем 3 ?

8 2 4

9. Укажи ошибочный пример.

1) $5+5-3=7$ 2) $3-2+5=6$ 3) $6+3-4=4$

10. Измени фигуру.

Красный квадрат --- цвет --- размер --- форму

11. Измерь длину отрезка. Начерти отрезок на 2 см короче.

12. Реши задачу.

Купили 8 кг картофеля, а моркови на 3 кг меньше. Сколько кг моркови купили?

13. Поставь знаки «+», «-» так, чтобы получилось верное равенство.

$$8 \dots 2 \dots 4 \dots 1 = 7$$

14. Убери три палочки так, чтобы осталось три квадрата. Нарисуй получившуюся фигуру.

15. Оля, Петя, Света ходят в разные кружки: пения, рисования, танцев. Оля не ходит в кружок пения и рисования. Петя не ходит в кружок пения. В какие кружки ходят дети?

Оля _____

Петя _____ Света _____